

成 城 大 学

◇ 文芸 ◇

— 2月5日実施 —

【時間】 60分

【問題】 全4問

1 日本の工業に関する次の文章を読んで、下記の設問に答えよ。教科書通りの定期考査問題

企業は、その工業の性質にみあった立地条件を検討し、工場を建設する。例えば、高度に分業化し、複数の関連工業施設が工程に関わる場合、それら施設を特定の場所に集中させることで部品や資材の輸送コストの節約をはかろうとする。このような多数の関連業種の多数の工場が集中して立地することを「1」という。各種の生産費を「1」によって節減しようとする「1」指向型工業が形成する工業地域/工業都市としては、企業城下町として知られる自動車工業都市である愛知県「2」市をあげることができる。

一方、原料が製品よりも重いことから輸送費用を小さくする目的のもと、原料産地に立地する原料指向型工業の1つである「A」は、秩父や美祿、宇部が有名である。同様に、原料指向型工業の1つである「B」は、瀬戸や伊万里に、製紙・「3」は苫小牧や富士に工業地帯を形成している。また、原料を輸入にたよることから、都市近郊の臨海部に立地する臨海指向型工業の1つである「C」は君津や水島(倉敷)に工業地帯を形成している。その他の工業の分類としては、ビールや清涼飲料水製造など、大都市などの製品の供給先の至近に立地することで輸送費をおさえることを指向する「4」指向型工業、人件費の節約を指向する「5」指向型工業などが存在する。

20世紀後半から21世紀のグローバル化の中で、日本の工業も世界における位置づけが変動している。例えば、自動車工業については、2009年以降世界の首位の座から転落し、現在は世界第3位の生産台数にとどまっている。

問1. 空欄「1」～「5」に適する語句を記せ。1: 集積 2: 豊田 3: パルプ 4: 市場

問2. 空欄「A」～「C」に適する語句を次の語群から選び、その記号を記せ。5: 労働力

(a) 窯業B (b) セメント工業A (c) 繊維工業 (d) 鉄鋼業C

(e) アルミニウム工業

問3. (下線部(a)について)日本の自動車生産を解説する文章として適するものを、次の選択肢から選び、その記号を記せ。人口が少ない国→内需が少ない cf日本・韓国など

(a) 日本の自動車生産は、1960年代は内需が増加し、1970年代には輸出が盛んになった。しかし、1980年代に入ると貿易摩擦を引き起こし、対米輸出規制を行うようになり、アメリカでの現地生産がはじまった。2000年代には海外生産台数が国内生産を上回っているが、国内生産も盛んであり、産業の空洞化が生じているとはいえない。

(b) 日本の自動車生産は、1960年代に輸出で成長したが、1970年代に貿易摩擦を引き起こしたことにより、1980年代以降は内需が中心となっている。2000年代以降も海外生産台数を国内生産が上回り、産業の空洞化が生じているとはいえない。

(c) 日本の自動車生産は、1960年代までは対米輸出規制の中であり、内需によって成長していたが、1970年代以降はアメリカで現地生産された自動車の逆輸入を行うようになり、1980年代に至るまで貿易摩擦を引き起こしていた。2000年代も海外生産台数が国内生産を上回り、産業の空洞化が深刻化している。

(d) 日本の自動車生産は、1960年代までは現地生産によってアメリカに販路を求めていたが、1970年代には貿易摩擦を引き起こし、一転して内需に依存するようになった。2000年代以降も海外生産台

トップ > 自動車メーカー > 2022年の世界新車販売ランキング、トヨタが3年連続トップ 2位はVW 3位に現代が浮上

2022年の世界新車販売ランキング、トヨタが3年連続トップ 2位はVW 3位に現代が浮上

2023.01.31 / 自動車メーカー

シェア

紙面で読む

この記事を手クラップ

2023.04.26

R5/04/26

の日付を検索

紙面で読む

新聞購読申込

2022年 グループ別世界販売台数	
トヨタ	10,483,024 (▲0.1)
VW	8,262,800 (▲7.0)
現代自	6,848,198 (▲2.7)
ルノー・日産・三菱	6,156,140 (▲14.0)

単位:台、カッコ内は前年比増減率%、▲はマイナス

2022年のグループ別世界販売台数は、トヨタ自動車の前年比0.1%減の1048万3024台で、3年連続で世界首位となった。新型コロナウイルスによる生産制約の影響を受けたが、アジア地域を中心に販売が底堅く推移した。2位の独フォルクスワーゲン（VW）は826万2800台（同7.0%減）。中国のロックダウン（都市封鎖）による影響

で、サプライチェーン（供給網）が混乱し、新車販売に影響を受けた。

国別だと

①中国

②米国

③日本

④インド

⑤韓国

⑥ドイツ

電子版のお申込

愛車の悩みにこれ一つ!

様々な箇所に使える
万能オイル添加剤

特許取得製法



エスオーディーワンプラス

自動車業界の



の取り組み

数を国内生産が上回り、産業の空洞化が生じているとはいえない。

問4. (下線部(イ)について)こうした動向は、急速な経済成長のもとで国内需要を伸ばしたある国が、自動車生産台数を伸ばし、世界の首位の座に上昇したことに起因している。その国の名称を記せ。 **中国**

問5. 日本の工業に大きな変化をもたらした出来事に関する以下の設問に答えよ。

(1) 1970年代に、ある資源の供給が2度にわたって不安定になったことで、素材型工業の生産停滞が発生した。その出来事を漢字4字で記せ。 **石油危機(オイルショック)**

(2) 工業化は環境汚染の原因ともなる。高度経済成長期に問題化した四大公害病のうち、熊本県、三重県、富山県で発生したものをそれぞれ記せ

**熊本：水俣病 三重：四日市ぜんそく
富山：イタイイタイ病**

2 世界の人口および人口移動に関する次の文章

世界の人口分布をみると、(ア)地域によって著しい偏りがある。(イ)人口分布は生活に必要な長行(カ)が、(ク)候、地形・地質などの自然条件と、社会形態や経済、国際関係などの社会条件に左右される。

世界の人口は、18世紀後半に始まった産業革命以降、継続的に増加している。人口増加は[1]増加と社会増加の和で示される。人口動態についてみると、アフリカや南アジアなどの発展途上国では[2]で、人口はゆるやかに増加している。東南アジアやラテンアメリカの近代化が進行中の発展途上国では[3]で、人口の増加が著しい。これに対しヨーロッパや日本のような先進国では、人口転換によって少産少死となり、人口が停滞ないし減少している。その結果、世界の人口は全体として増加を続けている。

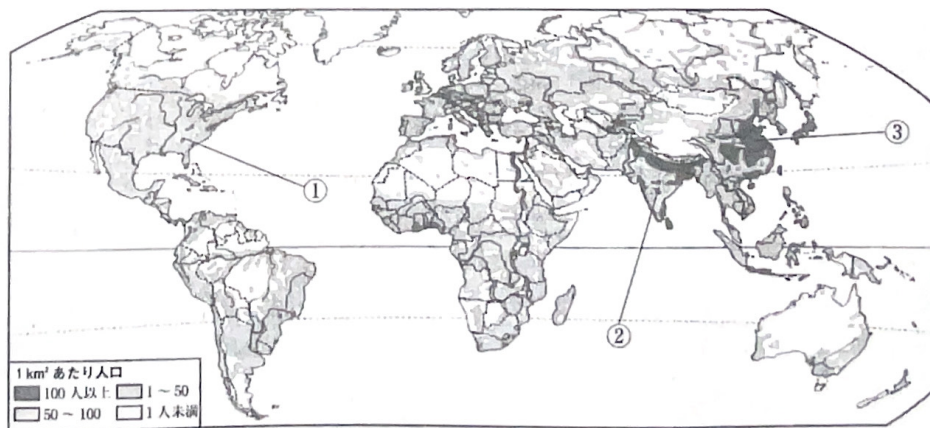
社会増加は国内あるいは国と国との間の人口移動によって生じる。17世紀以降、ヨーロッパの多くの人びとが政治や宗教の自由、生活の改善、仕事の機会や農地の獲得などを求めて南・北アメリカやオーストラリアなど世界中に移住していった。また、アジアでは古くから(カ)中国人が東南アジアをはじめとする世界各地に進出して現地に溶け込んでいる。人口移動は時として強制的に行われ、16世紀から19世紀半ばにかけては[4]人をこえると推定される黒人が南・北アメリカ大陸に移動させられた。

(キ)20世紀後半になると人口増加が著しく、過剰な労働人口を抱える発展途上国から賃金水準の高い先進国へと、労働を目的とする人口移動がさかんになった。また、近年、(ケ)現代社会が直面するさまざまな要因によって国境を越えて移動する人びとが急増している。

問1. 空欄[1]～[4]に適する語句ないし数字を次の語群から選び、その記号を記せ。

- (a) 文化 (b) 歴史 (c) 自然 (d) 多産少死 **1：自然 2：多産多死**
- (e) 多産多死 (f) 少産多死 (g) 1000万 (h) 5000万 **3：多産少死 4：1000万人**
- (i) 1億

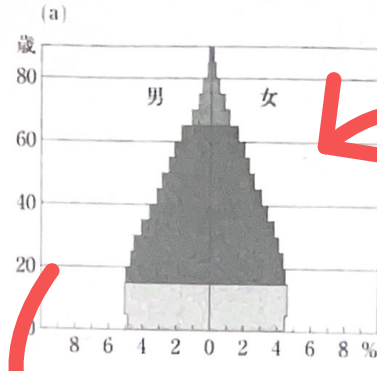
問2. (下線部(ア)について)次の図は、世界の人口密度を示したものである。図の①～③の国に該当する人口ピラミッドを次のページの(a)～(d)から選び、その記号を記せ。



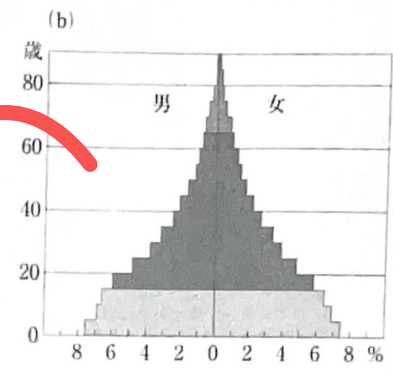
世界の人口密度 (2007年)

**知らねえよ
世界史の範囲**

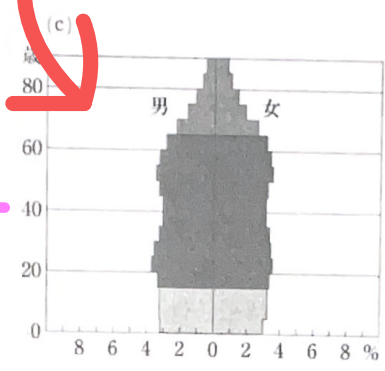
釣鐘型
多産少死
アメリカなど



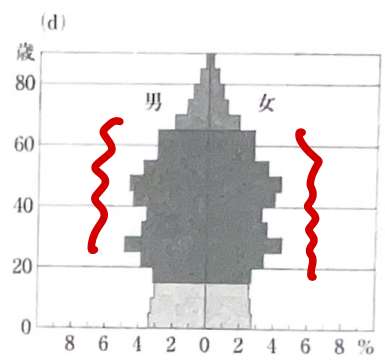
富士山型
多産多死
インドなど



少産少死
壺型
日本など
1.3



歪(いびつ)型
移民の出入や戦争、
災害、出産制限
中国など

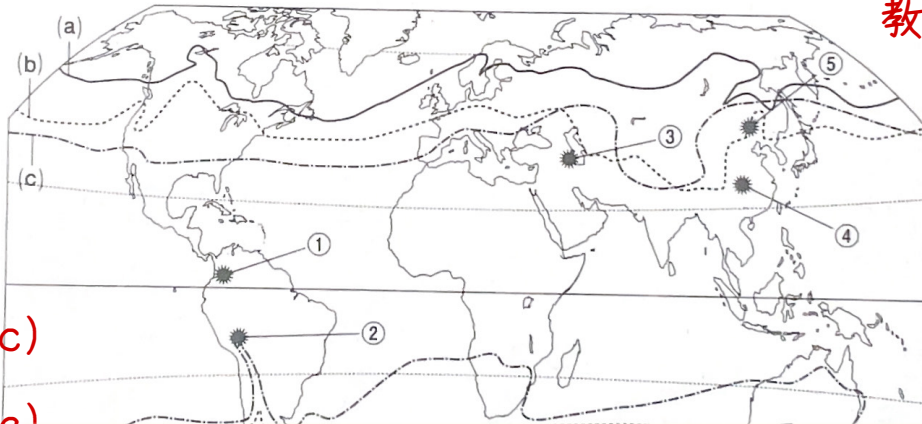


各国の人口ピラミッド (2015年)

問3. (下線部)について) 次の図は、主要作物の原産地と栽培限界を示したものである。図の①~⑤の中からジャガイモとダイズの原産地を選び、その番号を記せ。また、(a)~(c)の中からイネとコムギの栽培限界を示す線を選び、その記号を記せ。

ジャガイモ
産地：②
大豆
産地：⑤

イネ
栽培限界：(c)
コムギ
栽培限界：(a)

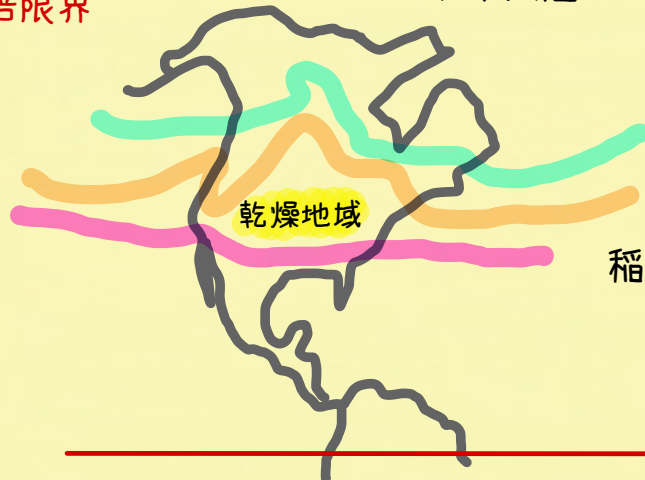


教P94に詳しい

教P94 農業の発達と分布

☆栽培限界

北米大陸



小麦

トウモロコシ

稲

華僑
印僑

問4. (下線部)について) 次の図は、主要作物の原産地と栽培限界を示したものである。図の①~⑤の中からジャガイモとダイズの原産地を選び、その番号を記せ。また、(a)~(c)の中からイネとコムギの栽培限界を示す線を選び、その記号を記せ。

教P128 世界の人口問題

現在80億人(2023年) →1年で1億人近く増加している。

☆人口上位18カ国

- 1位: **インド** (14.3億人) 高い人口増加率で、2022年に世界一
- 2位: **中国** (14.1億人) 出生率が低下し、人口減少傾向。
- 3位: **アメリカ合衆国** (3.4億人) 移民の流入が多く増加傾向
- 4位: **インドネシア** (2.7億人) 世界最大のイスラム教徒人口
- 5位: **パキスタン** (2.1億人) 砂漠国だが、人口規模が大きい
- 6位: **ナイジェリア** (2.2億人) アフリカ最大 原油で潤う
- 7位: **ブラジル** (2.1億人) 混血が進む「人種のるつぼ」
- 8位: **バングラデシュ** (1.7億人) 面積が狭く人口密度が高い
- 9位: **ロシア** (1.4億人) 旧ソ連の15か国合計では3億人
- 10位: **メキシコ** (1.3億人) 中絶禁止のカトリック国
- 11位: **日本** (1.25億人) そろそろ抜本的移民政策が必要
- 12位: **フィリピン** (1.1億人) 日本を近いうちに抜くことは確実
- 13位: **エジプト** (1.0億人) 稲作が盛んで、人口増加
- 14位: **エチオピア** (1.0億人) 中国マネーが国を潤す?
- 15位: **ベトナム** (1.0億人) 中国に代わって工業が急発展
- 16位: **コンゴ民主共和国** (1.0億人) コバルト生産量世界1位
- 17位: **イラン** (0.9億人) 中東の大国(反米! 親ロシア!)
- 18位: **トルコ** (0.9億人) 中東の大国(親米! 反ロシア!)

☆入試によく出る国の人口

タイ(7000万人) 韓国(5000万人) カナダ(4000万人)
オーストラリア(2500万人)
シンガポール・ニュージーランド(500万人)

ドイツ(8000万人)

フランス・イギリス・イタリア(6000万人)

スペイン(4500万人)